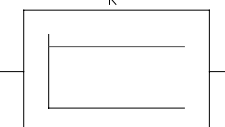

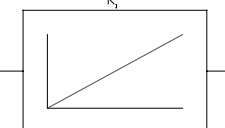
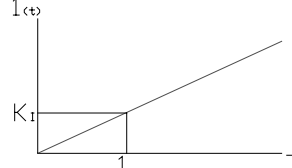
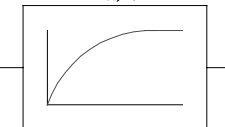
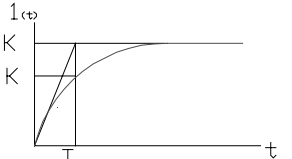
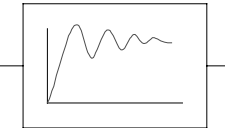



	Diagramm	Funktion	Übergangsfunktion $h_{(t)} = \frac{x_a(t)}{x_e(t)}$	Übertragungsfunktion $F_{(s)} = \frac{X_{(s)}}{Y_{(s)}}$
P - Glied K	 	$x_a = K \cdot x_e$	$h_{(t)} = K$	$F_{(s)} = K$
I - Glied K_I	 	$x_a = K_I \cdot \int x_e \cdot dt$	$h_{(t)} = K_I \cdot \int 1 \cdot dt$ für $t \geq 1$: $h_{(t)} = K_I \cdot t$	$F_{(s)} = K_I \cdot \frac{1}{s}$
PT₁ -Glied K, T	 	$T \cdot \dot{x}_a + x_a = K \cdot x_e$	$h_{(t)} = K \cdot \left(1 - e^{-\frac{t}{T}}\right)$	$F_{(s)} = \frac{K}{1 + s \cdot T}$
PT₂ -Glied D, ω_0, T	 	allgem. (2 versch. Speicher, schwing.-fähig) $\ddot{x}_a + 2 \cdot D \cdot \omega_0 \cdot \dot{x}_a + \omega_0^2 \cdot x_a = K \cdot \omega_0 \cdot x_e$ speziell (2 gleiche Speicher, keine Schw.) $T_1 \cdot T_2 \cdot \ddot{x}_a + (T_1 + T_2) \cdot \dot{x}_a + x_a = K \cdot x_e$		$F_{(s)} = \frac{K \cdot \omega_0^2}{s + 2 \cdot D \cdot \omega_0 \cdot s + \omega_0^2}$

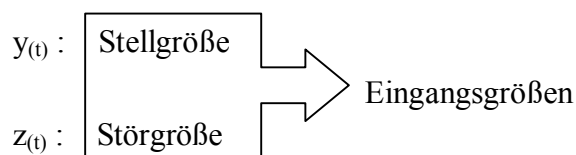
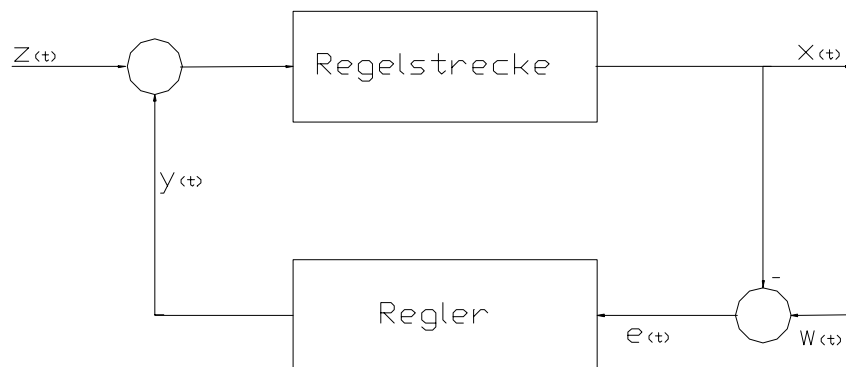
K = stationärer Übertragungsbeiwert

T = Zeitkonstante (Verzögerung)

ω_0 = Eigenkreisfrequenz des ungedämpften Systems

D = Dämpfung(sbeiwert)

Aufbau einer Regelung:



$e(t) = w(t) - x(t)$: Regeldifferenz
 $x(t)$: Regelgröße = Ausgangsgröße
 $x(t_1)$: Istwert

$w(t)$: Führungsgröße
bei $w(t) = \text{konst.}$: Sollwert

Kochrezepte:

Modellbildung:

1. Für jedes Bauglied die *entsprechende* „Elementgleichung“ gemäß **[Beiblatt 1.6]** aufstellen. Diese beschreiben am betrachteten Bauglied den Zusammenhang zwischen Spannungs- und Flußvariablen. Hierbei, falls notwendig, *Hilfsgrößen* einführen.
2. Hilfsgrößen eliminieren.

Beachte: Zur Elimination von k Hilfsgrößen werden $k+1$ Gleichungen benötigt. Wenn nötig Erhaltungssätze der Physik ergänzend anwenden.

3. DGL $x_a = f_{(x_e, t)}$ aufstellen.

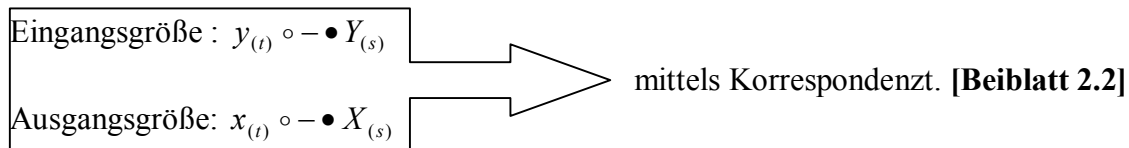
Wirkungsplan:

1. Ausgangspunkt, DGL $x_a = f_{(x_e, t)}$, siehe oben
2. DGL nach der *höchsten* Ableitung der **Ausgangsgröße** auflösen.
3. DGL so oft integrieren, bis *keine Ableitungen* der **Eingangsgröße** auftreten. Der *Koeffizient* der Eingangsgröße sollte gleich „1“ gesetzt werden.
4. WP beginnend mit der **Ausgangsgröße** schrittweise bis zur **Eingangsgröße** entwickeln. Dabei zunächst den Ausdruck mit der *höchsten* Ableitung aus Schritt 2 realisieren. Diesen Ausdruck als Summe aus Eingangsgröße und rückgekoppelter Größe darstellen.

Beachte: Besteht eine DGL nur aus Spannungs- und Flussvariablen gemäß Beiblatt 1.6, so entspricht die *Ordnung* n der DGL der *Anzahl der Energiespeicher* des beschriebenen Systems.

Beispiele siehe Skript ab Seite 1–25.

Beschreibung linearer Systeme im Bildbereich der Laplace Transformation



Differentialgleichung: $DGL \circ - \bullet L\{DGL\}$ direkt Umsetzen

Beispiele siehe Skript Seite 027.

Übertragungsfunktion:

$$\text{DGL} : a_n \cdot x^n + a_{n-1} \cdot x^{n-1} + \dots + a_1 \cdot \dot{x} + a_0 \cdot x = b_0 \cdot y + b_1 \cdot \dot{y} + \dots + b_m \cdot y^m$$

$$\text{L-DGL: } X_{(s)} \cdot [a_n \cdot s^n + \dots + a_1 \cdot s + a_0] = Y_{(s)} \cdot [b_0 + b_1 \cdot s + b_m \cdot s^m]$$

$$F_{(s)} = \frac{X_{(s)}}{Y_{(s)}} = \frac{\sum_{i=0}^m b_i \cdot s^i}{\sum_{j=0}^n a_j \cdot s^j} = \frac{Z_{(s)}}{N_{(s)}}$$

$F_{(s)}$ = Übertragungsfunktion

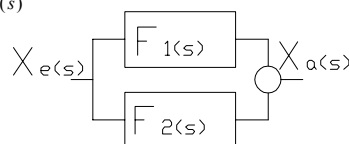
$Z_{(s)}$ = Zählerpolynom

$N_{(s)}$ = Nennerpolynom

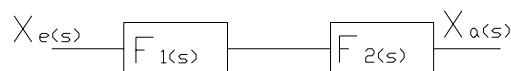
$Y_{(s)}$ = Eingangsgröße

$X_{(s)}$ = Ausgangsgröße

Parallelschaltung: $F_{s(s)} = F_{1(s)} + F_{2(s)}$



Reihenschaltung: $F_{s(s)} = F_{1(s)} \cdot F_{2(s)}$



Störübertragungsfunktion:

$$F_{z(s)} = \frac{X_{(s)}}{Z_{(s)}} = \frac{F_{s(s)}}{1 + F_{R(s)} \cdot F_{s(s)}}$$

Führungsübertragungsfunktion:

$$F_{w(s)} = \frac{X_{(s)}}{W_{(s)}} = \frac{F_{R(s)} \cdot F_{s(s)}}{1 + F_{R(s)} \cdot F_{s(s)}}$$

Systematisches Verfahren zur Ermittlung der ÜF eines Systems, das aus mehreren Teilsystemem besteht:

1. Ausgangsgrößen aller Summationsstellen als Hilfsgrößen einführen
=> k-Gleichungen.
2. Ausgangsgrößen des Systems in Abhängigkeit der Hilfsgrößen aus 1. darstellen
=>k+1 Gleichungen.
3. Elimination der k-Hilfsgrößen liefert die gesuchte ÜF.

Beispiele siehe Skript ab Seite 3-27.

Grenzwertsatz:



Für stationärer Werte ($t \rightarrow \infty$):

I. $h_{(t \rightarrow \infty)} = F_{(s \rightarrow 0)}$

II. $x_{(t \rightarrow \infty)} = \hat{y} \cdot F_{(s \rightarrow 0)}$

Für Grenzwerte ($t \rightarrow 0$):

I. $h_{(t \rightarrow 0)} = F_{(s \rightarrow \infty)}$

II. $x_{(t \rightarrow 0)} = \hat{y} \cdot F_{(s \rightarrow \infty)}$

Beispiel siehe Skript Seite 3-15.

stationärer Regelfehler:

Führungsverhalten: $w_{(t)} = \hat{w} \cdot 1_{(t)} \Rightarrow W_{(s)} = \hat{w} \cdot \frac{1}{s}$

$$e_{(t \rightarrow \infty)} = \hat{w} - \hat{w} \cdot h_{(t \rightarrow \infty)} = \hat{w} \cdot (1 - F_{w(s \rightarrow 0)})$$

Störverhalten: $z_{(t)} = \hat{z} \cdot 1_{(t)} \Rightarrow Z_{(s)} = \hat{z} \cdot \frac{1}{s}$

$$e_{(t \rightarrow \infty)} = -x_{(t \rightarrow \infty)} = -\hat{z} \cdot h_{(t \rightarrow \infty)} = -\hat{z} \cdot F_{z(s \rightarrow 0)}$$

Stabilität eines Systems (Hurwitz-Kriterium):

mit $F_{s(s)} = \frac{\text{Zählerpolynom}}{\text{Nennerpolynom}}$; **Nennerpolynom:** $a_4 \cdot s^4 + a_3 \cdot s^3 + a_2 \cdot s^2 + a_1 \cdot s + a_0$

1. **Alle Koeffizienten des Nennerpolynoms müssen vorhanden und >0 sein.**
2. a) $n = 3$: $a_1 \cdot a_2 - a_0 \cdot a_3 > 0$
b) $n = 4$: **Bedingung für n=3 muß erfüllt sein**
und $a_1 \cdot a_2 \cdot a_3 - a_1^2 \cdot a_4 - a_0 \cdot a_3^2 > 0$

Reglerwert K_R :

Stabiles System für K_R Werte:

1. Hurwitz Kriterium muß erfüllt sein
2. $K_R > 0$, 1. Bedingung
3. $1 + F_{R(s)} \cdot F_{s(s)} = 0 \Rightarrow$ Funktion $a_4 \cdot s^4 + a_3 \cdot s^3 + a_2 \cdot s^2 + a_1 \cdot s + a_0 = 0$
In a_0 sind alle Konstanten enthalten!!!
a) $n = 3$: $a_1 \cdot a_2 - a_0 \cdot a_3 > 0$
b) $n = 4$: $a_1 \cdot a_2 \cdot a_3 - a_1^2 \cdot a_4 - a_0 \cdot a_3^2 > 0$
4. $0 < K_R > \dots$

$K_{R \text{ Krit}}$ Werte:

1. Hurwitz Kriterium muß erfüllt sein
2. $K_R > 0$, 1. Bedingung
3. $1 + F_{R(s)} \cdot F_{s(s)} = 0 \Rightarrow$ Funktion $a_4 \cdot s^4 + a_3 \cdot s^3 + a_2 \cdot s^2 + a_1 \cdot s + a_0 = 0$
In a_0 sind alle Konstanten enthalten!!!
a) $n = 3$: $a_1 \cdot a_2 - a_0 \cdot a_3 = 0$
b) $n = 4$: $a_1 \cdot a_2 \cdot a_3 - a_1^2 \cdot a_4 - a_0 \cdot a_3^2 = 0$
4. $K_{RKrit} = \dots$

Bode-Diagramm:

1. Differentialgleichung aufstellen:

$$\text{z.B.: } \ddot{x} + 3 \cdot \dot{x} + 1,25 \cdot x = 10 \cdot y$$

2. Übertragungsfunktion ermitteln:

$$\text{z.B.: } F_{s(s)} = \frac{10}{1 \cdot s^3 + 3 \cdot s^2 + 1,25 \cdot s}$$

3. ÜF in Produktform umformen (Nullstellen des Nenner Polynoms [Polstellen] ermitteln:

$$\text{Form: } (s - s_{p1}) \cdot (s - s_{p2}) \cdot (s - s_{p3}) \cdot \dots$$

$$s_{p1} = 0; \quad s_{p1} = -2,5; \quad s_{p1} = -0,5;$$

$$\text{z.B.: } F_{s(s)} = \frac{10}{(s - 0) \cdot (s + 2,5) \cdot (s + 0,5)}$$

4. ÜF in Zeitkonstantenform überführen und nach größten T ordnen:

$$\text{Form: } (1 + s \cdot T)$$

$$\begin{aligned} \text{z.B.: } F_{s(s)} &= \frac{10}{(s - 0) \cdot (s + 2,5) \cdot (s + 0,5)} = \frac{10}{(s - 0) \cdot \frac{(s + 2,5)}{2,5} \cdot \frac{(s + 0,5)}{0,5}} \\ &= \frac{8}{(0 - s)} \cdot \frac{1}{(1 + s \cdot 2) \cdot (1 + s \cdot 0,4)} \end{aligned}$$

5. ÜF in Funktion (s → j*ω) umformen und in Komponenten zerlegen:

$$\text{z.B.: } F_{s(j\omega)} = \frac{8}{(0 + j\omega)} \cdot \frac{1}{(1 + j\omega \cdot 2)} \cdot \frac{1}{(1 + j\omega \cdot 0,4)}$$

6. Eckfrequenzen bestimmen:

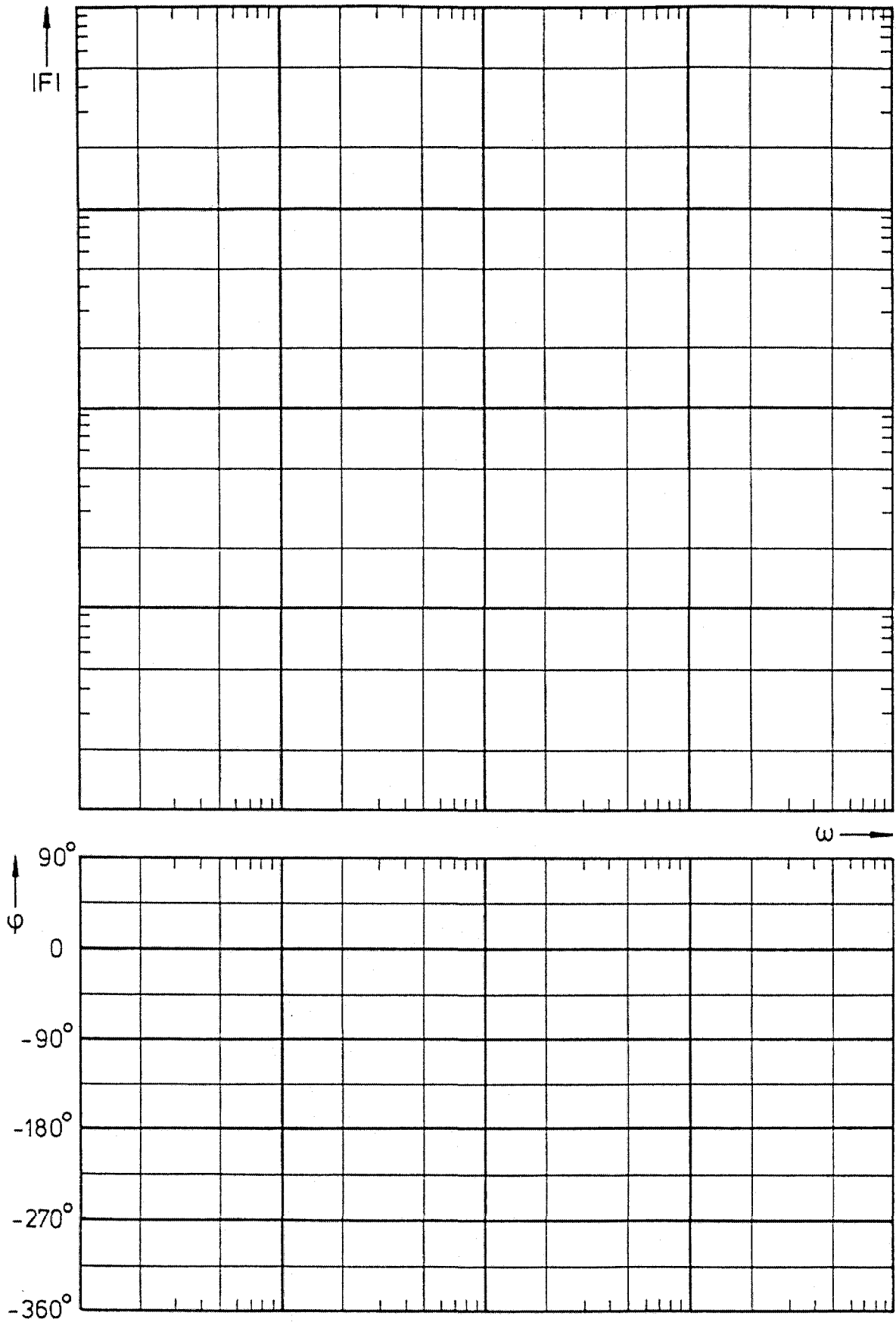
$$\text{z.B.: } \omega_{e1} = \frac{1}{T_1} = \frac{1}{2} = 0,5 \quad \omega_{e2} = \frac{1}{T_2} = \frac{1}{0,4} = 2,5$$

7. Komponenten identifizieren und mit Hilfe von [Beiblatt 5.4] Frequenzgang und Phasengang im Bode-Diagramm darstellen:

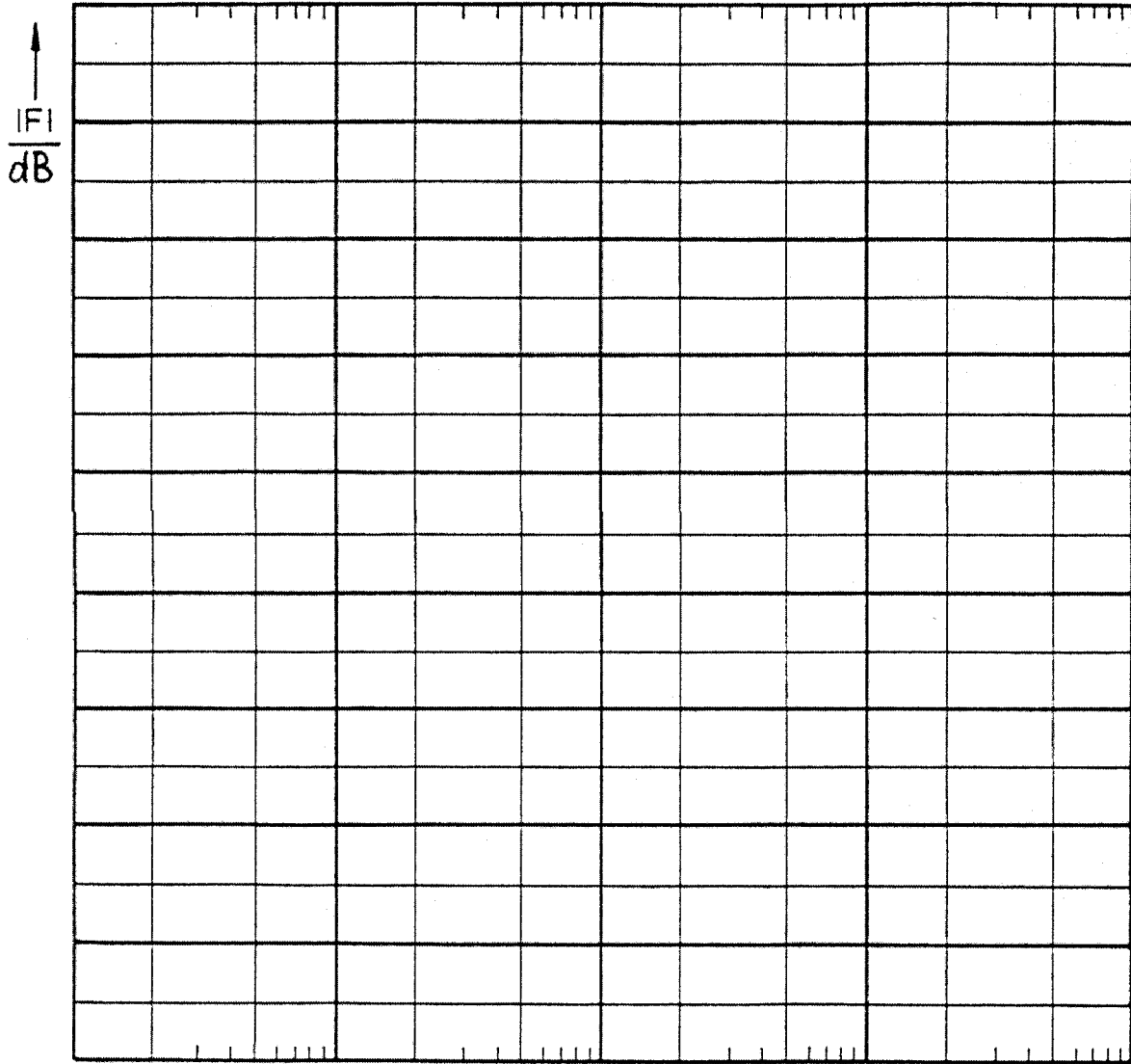
$$\text{z.B.: } \frac{8}{(0 + j\omega)} \cdot \frac{1}{(1 + j\omega \cdot 2)} \cdot \frac{1}{(1 + j\omega \cdot 0,4)} \quad \text{Beispiel Bode Diagramm}$$

I - Glied · PT₁ - Glied · PT₁ - Glied Siehe Skript S. 5 - 13

Steigung negativ, wenn T in Nenner (Knick nach „unten“) wie in Bsp.



Bode-Diagramm



Amplitudengang in Dezibel (dB)